









循理會白普理基金循理小學

姓名： <u>梁心欣</u> (12)	一年級下學期數學科	成績	<u>A</u> 6/5
班別：1 <u>A</u>	課題：硬幣的使用		
日期： <u>20-3-2024</u>			

下面是文具店內一些文具的售價。





			
\$3.00	\$4.00	\$7.00	\$9.00

1. 我要買一件 (  /  /  /  ) 【圈出物品】，  
需付 9 元。

圈出要付的硬幣：



2. 哥哥原有 18 元，





買了一件 (  /  /  /  ) 後，  
還有 ( 15 ) 元。





(B)

循理會白普理基金循理小學

姓名： <u>王凱慧</u> (17)	一年級下學期數學科 課題：硬幣的使用	成績	<u>A</u> 6/8
班別：1 <u>A</u>			
日期： <u>20-3-2024</u>			

下面是文具店內一些文具的售價。





			
\$3.00	\$4.00	\$7.00	\$9.00

1. 我要買一件 (  /  /  /  ) 【圈出物品】，  
需付 3 元。

圈出要付的硬幣：




2. 哥哥原有 18 元，

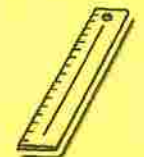

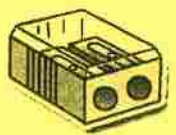

買了一件 (  /  /  /  ) 後，  
還有 ( 9 ) 元。





(B)

# 循理會白普理基金循理小學

姓名： <u>陳瑩</u> (3)	一年級下學期數學科 課題：硬幣的使用	成績	5 5	
班別：1 <u>B</u>				
日期： <u>5-6-2024</u>				

下面是文具店內一些文具的售價。





			
\$3.00	\$4.00	\$7.00	\$9.00

1. 我要買一件 (  /  /  /  ) 【圈出物品】，  
需付 3 元。

圈出要付的硬幣：




2. 哥哥原有 18 元，

買了一件 (  /  /  /  ) 後，  
還有 ( 15 ) 元。

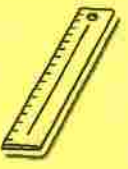



(B)







循理會白普理基金循理小學

姓名： <u>曹皓朗</u> (16) 班別：1 <u>B</u> 日期： <u>5-6-2024</u>	一年級下學期數學科 課題：硬幣的使用	成績 5/5	
---	-----------------------	-----------	---

下面是文具店內一些文具的售價。





			
\$3.00	\$4.00	\$7.00	\$9.00

1. 我要買一件 (  /  /  /  ) 【圈出物品】，  
需付 4 元。

圈出要付的硬幣：



2. 哥哥原有 18 元，





買了一件 (  /  /  /  ) 後，  
還有 ( 15 ) 元。





(B)

循理會白普理基金循理小學

姓名： <u>王柏豪</u> (20) 班別：1 <u>C</u> 日期： <u>4月30日</u>	一年級下學期數學科 課題：硬幣的使用	成績 100
--	-----------------------	-----------

下面是文具店內一些文具的售價。





			
\$3.00	\$4.00	\$7.00	\$9.00

1. 我要買一件 (  /  /  /  ) 【圈出物品】，  
需付 4 元。

圈出要付的硬幣：



2. 哥哥原有 18 元，

買了一件 (  /  /  /  ) 後，  
還有 ( 15 ) 元。

(B)

循理會白普理基金循理小學



姓名： <u>朱雪嵐</u> (4)	一年級下學期數學科 課題：硬幣的使用	成績	100
班別：1 <u>C</u>			
日期： <u>30-4-2024</u>			

下面是文具店內一些文具的售價。

\$3.00	\$4.00	\$7.00	\$9.00

1. 我要買一件 ( / / / ) 【圈出物品】，

需付 4 元。

圈出要付的硬幣：



2. 哥哥原有 18 元，

買了一件 ( / / / ) 後，

還有 ( 11 ) 元。



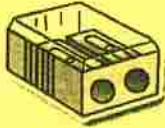

(B)







循理會白普理基金循理小學

姓名： <u>木木昕庭</u> (7) 班別：1 <u>10</u> 日期： <u>16-4-2024</u>	一年級下學期數學科 課題：硬幣的使用	成績	A 23/4
---	-----------------------	----	-----------

下面是文具店內一些文具的售價。





			
\$3.00	\$4.00	\$7.00	\$9.00

1. 我要買一件 (  /  /  /  ) 【圈出物品】，  
需付 9 元。

圈出要付的硬幣：



2. 哥哥原有 18 元，



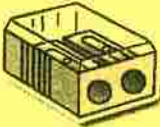

買了一件 (  /  /  /  ) 後，  
還有 ( 9 ) 元。





(B)

循理會白普理基金循理小學

姓名： <u>張旭東</u> (2)	一年級下學期數學科	成績	A 23/4
班別：1 <u>10</u>	課題：硬幣的使用		
日期： <u>16-4-2024</u>			

下面是文具店內一些文具的售價。


			
\$3.00	\$4.00	\$7.00	\$9.00

1. 我要買一件 (  /  /  /  ) 【圈出物品】，  
需付 4 元。

圈出要付的硬幣：



2. 哥哥原有 18 元，

買了一件 (  /  /  /  ) 後，

還有 ( 14 ) 元。





(B)







循理會白普理基金循理小學

姓名： <u>周志嘉</u> (9)	一年級下學期數學科 課題：硬幣的使用	成績	<u>3</u> <u>3</u>
班別：1 <u>E</u>			
日期： <u>4</u>			

下面是文具店內一些文具的售價。





			
\$3.00	\$4.00	\$7.00	\$9.00

1. 我要買一件 (  /  /  /  ) 【圈出物品】，  
需付 7 元。

圈出要付的硬幣：



2. 哥哥原有 18 元，





買了一件 (  /  /  /  ) 後，  
還有 ( 11 ) 元。

(B)

循理會白普理基金循理小學

姓名： <u>陳祖堯</u> (2)	一年級下學期數學科 課題：硬幣的使用	成績	<u>3</u> <u>3</u>
班別：1 <u>E</u>			
日期： <u>14-4-2024</u>			

下面是文具店內一些文具的售價。

			
\$3.00	\$4.00	\$7.00	\$9.00





1. 我要買一件 (  /  /  /  ) 【圈出物品】，

需付 7 元。

圈出要付的硬幣：



2. 哥哥原有 18 元，

買了一件 (  /  /  /  ) 後，

還有 ( 15 ) 元。

(B)