
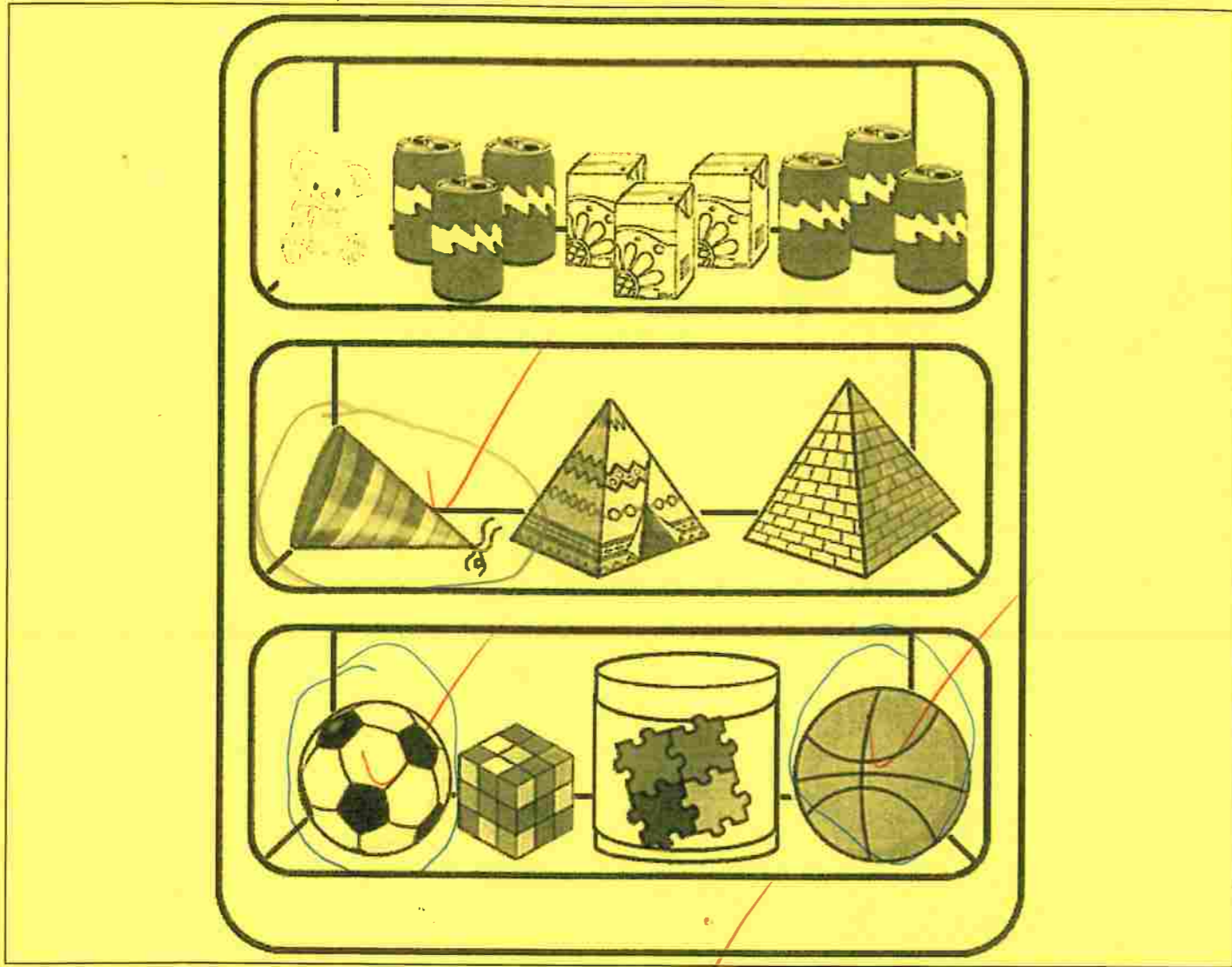


循理會白普理基金循理小學

姓名: <u>吳日希楠 (15)</u>	一年級	成績	5/5 
班別: <u>1 A</u>	數學科專題:	績	
日期: <u>6-2-2024</u>	整理雜物架		



媽媽把不同的物件放置在雜物架上。



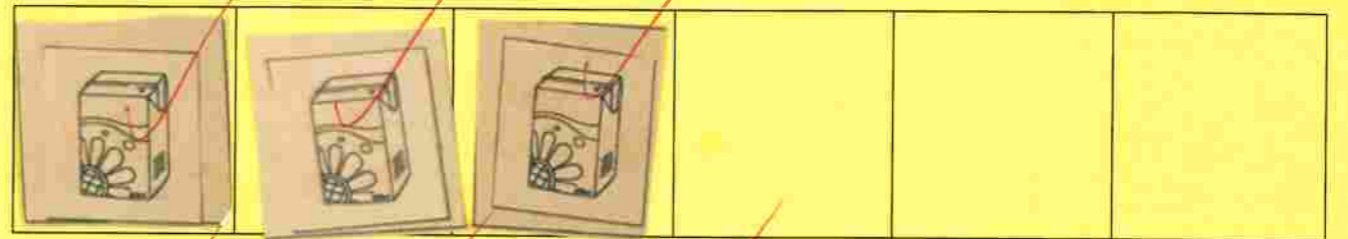

1(a). 數數看，雜物架的底層有 4 件物品。

1(b). 雜物架的頂層有 9 件飲品。

(B1)

- 在雜物架中，哪一件物品像圓錐？把它用黑色筆圈出來。
- 在雜物架中，哪兩件物品像球？把它用藍色筆圈出來。
- 以一對一的方法，利用附頁的圖案  和 ，

剪貼在下面比比看。



6 - 3 = 3

 比  * (多 / 少) 3。

- 從報章中找出一些像角柱、圓錐、和球的物件圖片，貼在下面。(每種只需找出一件物品)

角柱



圓錐




球



(B2)

姓名: <u>馬卓雯</u> (14)	一年級	成績	5/5
班別: 1 <u>A</u>	數學科專題:	績	
日期: <u>二月六日</u>	整理雜物架		



媽媽把不同的物件放置在雜物架上。

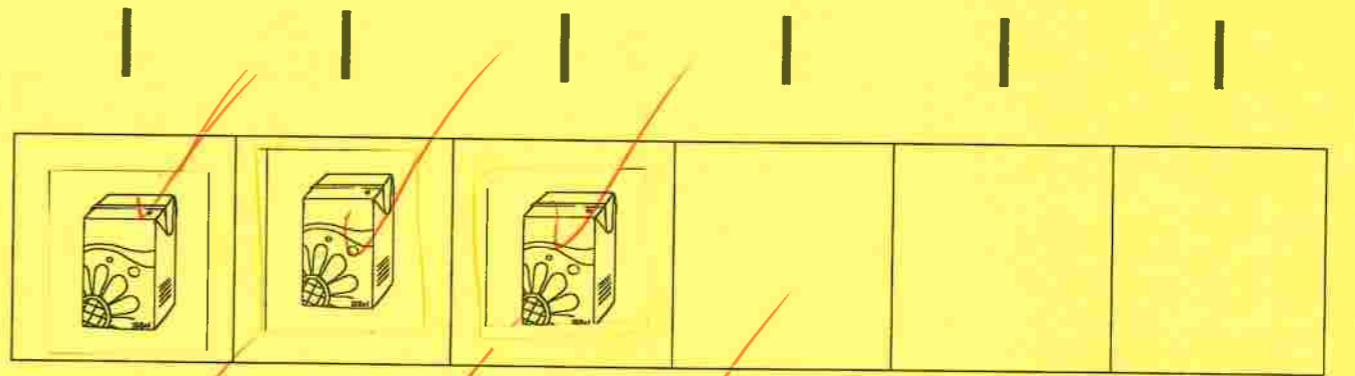



1(a). 數數看，雜物架的底層有 4 件物品。

1(b). 雜物架的頂層有 9 件飲品。

(B1)

- 在雜物架中，哪一件物品像圓錐？把它用黑色筆圈出來。
- 在雜物架中，哪兩件物品像球？把它用藍色筆圈出來。
- 以一對一的方法，利用附頁的圖案  和 ，剪貼在下面比比看。



6 - 3 = 3


 比  * (多 / 少) 3。

- 從報章中找出一些像角柱、圓錐、和球的物件圖片，貼在下面。(每種只需找出一件物品)

角柱



圓錐




球



循理會白普理基金循理小學

姓名: <u>劉嘉穎</u> (13)	一年級	成績	A
班別: 1 <u>B</u>	數學科專題:		
日期: <u>2月6日</u>	整理雜物架		

媽媽把不同的物件放置在雜物架上。





1(a). 數數看，雜物架的底層有 4 件物品。



1(b). 雜物架的頂層有 9 件飲品。

(B1)



2. 在雜物架中，哪一件物品像圓錐？把它用黑色筆圈出來。

3. 在雜物架中，哪兩件物品像球？把它用藍色筆圈出來。

4. 以一對一的方法，利用附頁的圖案  和 ，剪貼在下面比比看。



$$\boxed{6} - \boxed{3} = \boxed{3}$$

 比  *(多/少) 3。

5. 從報章中找出一些像角柱、圓錐、和球的物件圖片，貼在下面。(每種只需找出一件物品) ★ Good ☺




(B2)

循理會白普理基金循理小學

姓名: <u>曾嘉琳</u> (18)	一年級	成績	A
班別: 1 <u>B</u>	數學科專題:		
日期: <u>9-2-2024</u>	整理雜物架		



媽媽把不同的物件放置在雜物架上。

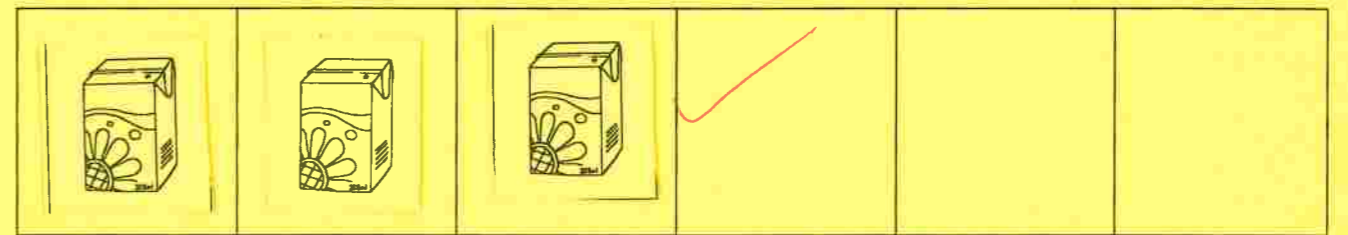



1(a). 數數看，雜物架的底層有 4 件物品。

1(b). 雜物架的頂層有 6 件飲品。

(B1)

- 在雜物架中，哪一件物品像圓錐？把它用黑色筆圈出來。
- 在雜物架中，哪兩件物品像球？把它用藍色筆圈出來。
- 以一對一的方法，利用附頁的圖案  和 ，剪貼在下面比比看。



$$9 - 6 = 3$$

 比  * (多 / 少) 3。

- 從報章中找出一些像角柱、圓錐、和球的物件圖片，貼在下面。(每種只需找出一件物品)




(B2)

循理會白普理基金循理小學

姓名: <u>鄧凱翹 (14)</u>	一年級	成	甲
班別: <u>1C</u>	數學科專題:	績	
日期: <u>10-1-2024</u>	整理雜物架		

媽媽把不同的物件放置在雜物架上。





1(a). 數數看，雜物架的底層有 4 件物品。

1(b). 雜物架的頂層有 9 件飲品。

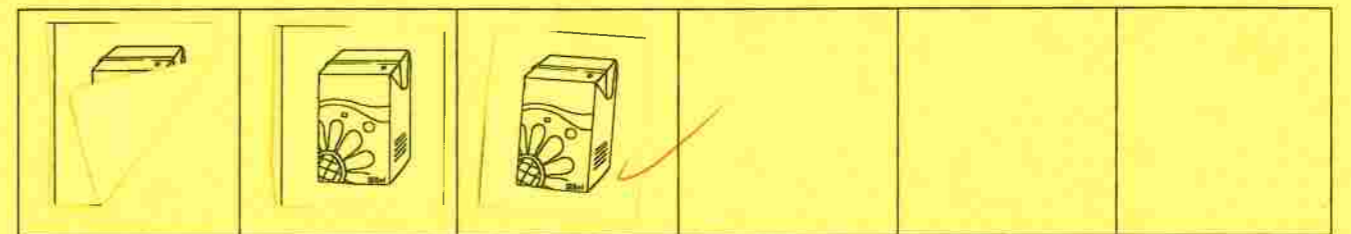
(B1)

2. 在雜物架中，哪一件物品像圓錐？把它用黑色筆圈出來。

3. 在雜物架中，哪兩件物品像球？把它用藍色筆圈出來。

4. 以一對一的方法，利用附頁的圖案  和 ，

剪貼在下面比比看。



$$\boxed{6} - \boxed{3} = \boxed{3}$$

 比  * (多 / 少) 3。

5. 從報章中找出一些像角柱、圓錐、和球的物件圖片，貼在下面。(每種只需找出一件物品)

角柱



圓錐



球




(B2)

循理會白普理基金循理小學

姓名: <u>溫婉珊 (15)</u>	一年級	成績	
班別: 1 <u>C</u>	數學科專題:		
日期: <u>9-2-2024</u>	整理雜物架		

媽媽把不同的物件放置在雜物架上。





1(a). 數數看，雜物架的底層有 4 件物品。



1(b). 雜物架的頂層有 9 件飲品。

(B1)

2. 在雜物架中，哪一件物品像圓錐？把它用黑色筆圈出來。

3. 在雜物架中，哪兩件物品像球？把它用藍色筆圈出來。

4. 以一對一的方法，利用附頁的圖案  和 ，剪貼在下面比比看。



$6 - 3 = 3$

 比  * (多 / 少) 3。

5. 從報章中找出一些像角柱、圓錐、和球的物件圖片，貼在下面。(每種只需找出一件物品)

角柱



圓錐



球




(B2)

循理會白普理基金循理小學

姓名: <u>廖宇軒 (15)</u>	一年級	成績	A <u>28/2</u>
班別: 1 <u>0</u>	數學科專題:		
日期: <u>6-2-2024</u>	整理雜物架		



媽媽把不同的物件放置在雜物架上。





1(a). 數數看，雜物架的底層有 4 件物品。



1(b). 雜物架的頂層有 9 件飲品。

(B1)

- 在雜物架中，哪一件物品像圓錐？把它用黑色筆圈出來。
- 在雜物架中，哪兩件物品像球？把它用藍色筆圈出來。
- 以一對一的方法，利用附頁的圖案  和 ，剪貼在下面比比看。



6 - 3 = 3

 比  *(多/少) 3。

- 從報章中找出一些像角柱、圓錐、和球的物件圖片，貼在下面。(每種只需找出一件物品)


<p>角柱</p> 	<p>圓錐</p> 	<p>球</p> 
---	---	--

(B2)

循理會白普理基金循理小學

姓名: <u>蘇傑</u> (5)	一年級	成績	A 28/2
班別: 1 <u>D</u>	數學科專題:		
日期: <u>6-2-2024</u>	整理雜物架		

媽媽把不同的物件放置在雜物架上。





1(a). 數數看，雜物架的底層有 4 件物品。

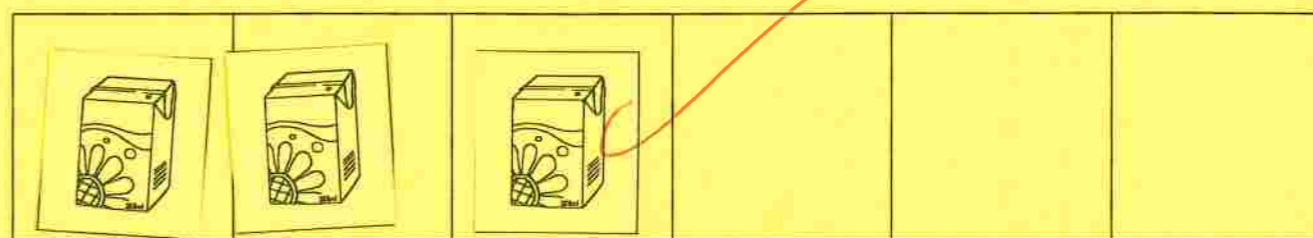

1(b). 雜物架的頂層有 9 件飲品。

(B1)

2. 在雜物架中，哪一件物品像圓錐？把它用黑色筆圈出來。

3. 在雜物架中，哪兩件物品像球？把它用藍色筆圈出來。

4. 以一對一的方法，利用附頁的圖案  和 ，剪貼在下面比比看。



$$\boxed{6} - \boxed{3} = \boxed{3}$$

 比  *(多/少) 3。

5. 從報章中找出一些像角柱、圓錐、和球的物件圖片，貼在下面。(每種只需找出一件物品)




(B2)

循理會白普理基金循理小學

姓名: <u>陳澤霖</u> (1)	一年級	成績	6
班別: 1 <u>E</u>	數學科專題:	績	
日期: <u>6-2-2024</u>	整理雜物架		



媽媽把不同的物件放置在雜物架上。

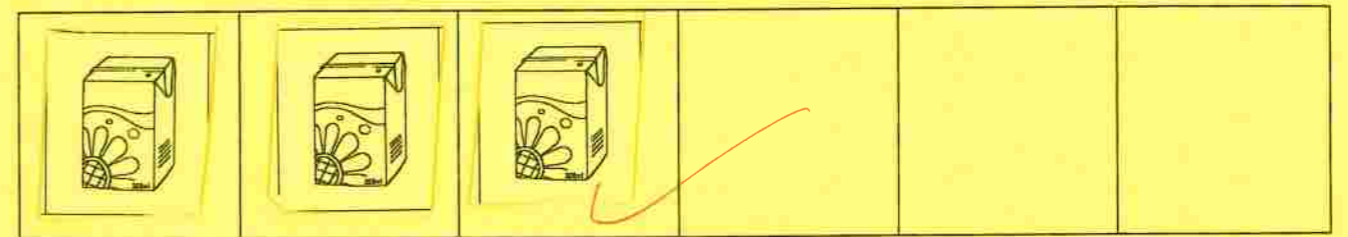



1(a). 數數看，雜物架的底層有 4 件物品。

1(b). 雜物架的頂層有 9 件飲品。

(B1)

- 在雜物架中，哪一件物品像圓錐？把它用黑色筆圈出來。
- 在雜物架中，哪兩件物品像球？把它用藍色筆圈出來。
- 以一對一的方法，利用附頁的圖案  和 ，剪貼在下面比比看。



$$\boxed{6} - \boxed{3} = \boxed{3}$$

 比  * (多 / 少) 3。

- 從報章中找出一些像角柱、圓錐、和球的物件圖片，貼在下面。(每種只需找出一件物品)

角柱



圓錐



球




(B2)

循理會白普理基金循理小學

姓名: <u>鄧芷琪 (10)</u>	一年級	成績 <u>6</u>
班別: <u>1 E</u>	數學科專題:	
日期: <u>6-2-2024</u>	整理雜物架	

媽媽把不同的物件放置在雜物架上。





1(a). 數數看，雜物架的底層有 4 件物品。

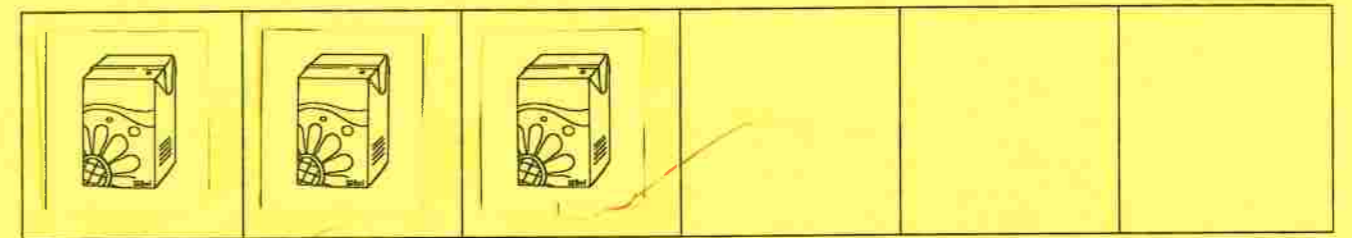

1(b). 雜物架的頂層有 9 件飲品。

(B1)

2. 在雜物架中，哪一件物品像圓錐？把它用黑色筆圈出來。

3. 在雜物架中，哪兩件物品像球？把它用藍色筆圈出來。

4. 以一對一的方法，利用附頁的圖案  和 ，剪貼在下面比比看。



$6 - 3 = 3$

 比  *(多/少) 3。

5. 從報章中找出一些像角柱、圓錐、和球的物件圖片，貼在下面。(每種只需找出一件物品)



(B2)